

Toán 5

Bài 7 – tiết 2

HỖN SỐ





KHỞI ĐỘNG

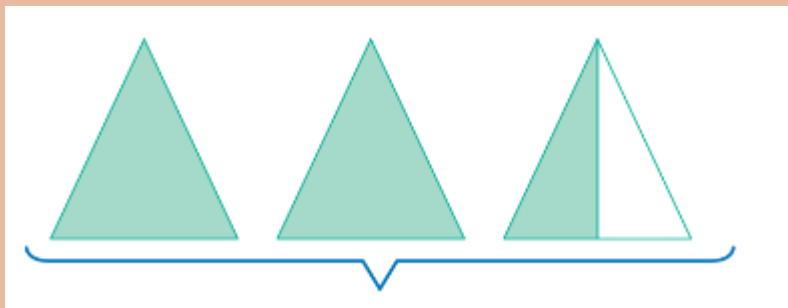


Nhanh Như chớp

Phiên bản Lớp học

Câu 1

Viết rồi đọc hỗn số



Viết: $2\frac{1}{2}$

Hai và một phần hai



Câu 2

Viết rồi đọc hỗn số

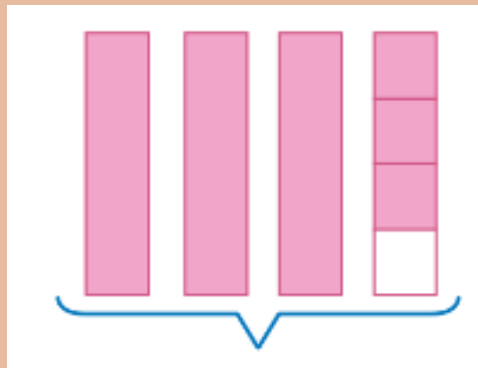
				$\frac{5}{8}$
--	--	--	--	---------------

Viết: $4\frac{5}{8}$
Bốn và năm phần tám



Câu 2



Viết rồi đọc hỗn số



Viết: $3 \frac{3}{4}$
Ba và ba phần tư.

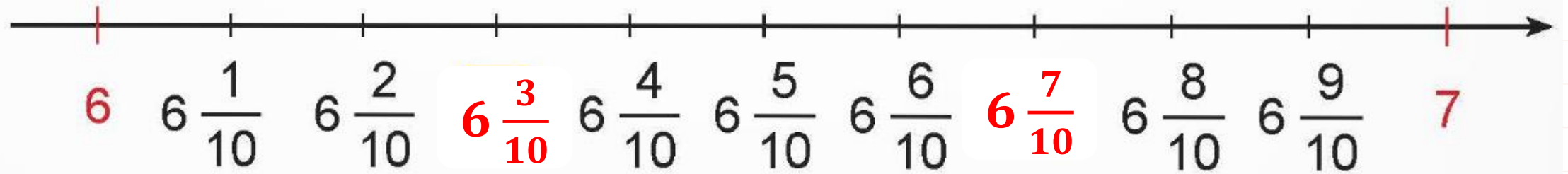


LUYỆN TẬP





BÀI 1: Viết và đọc hỗn số thích hợp với mỗi hình (theo mẫu)





BÀI 2: Hãy chỉ ra phần nguyên và phần phân số trong mỗi hỗn số

$$\text{Mẫu: } 2\frac{7}{10} = 2 + \frac{7}{10} = \frac{27}{10}$$

$$5\frac{1}{10}$$

$$1\frac{9}{100}$$

$$3\frac{5}{10}$$

$$4\frac{9}{100}$$

$$5\frac{1}{10}$$

Phần nguyên là 5

Phần phân số là $\frac{1}{10}$

$$1\frac{9}{100}$$

Phần nguyên là 1

Phần phân số là $\frac{9}{100}$

$$3\frac{5}{10}$$

Phần nguyên là 3

Phần phân số là $\frac{5}{10}$

$$4\frac{9}{100}$$

Phần nguyên là 4

Phần phân số là $\frac{9}{100}$



BÀI 3: Viết (theo mẫu)

$$\text{Mẫu: } \frac{31}{10} = \frac{30 + 1}{10} = \frac{30}{10} + \frac{1}{10} = 3 + \frac{1}{10} = 3 \frac{1}{10}$$

$$\frac{57}{10}$$

$$\frac{703}{100}$$

$$\frac{63}{10}$$

$$\frac{3\ 005}{1\ 000}$$

$$\frac{57}{10}$$

$$= \frac{50 + 7}{10} = \frac{50}{10} + \frac{7}{10} = 5 + \frac{7}{10} = 5\frac{7}{10}$$

$$\frac{703}{100}$$

$$= \frac{700 + 3}{100} = \frac{700}{100} + \frac{3}{100} = 7 + \frac{3}{100} = 7\frac{3}{100}$$

$$\frac{63}{10}$$



$$= \frac{60 + 3}{10} = \frac{60}{10} + \frac{3}{10} = 6 + \frac{3}{10} = 6\frac{3}{10}$$

$$\frac{3\,005}{1\,000}$$

$$= \frac{3\,000 + 5}{1\,000} = \frac{3\,000}{1\,000} + \frac{5}{1\,000} = 3 + \frac{5}{1\,000} = 3\frac{5}{1\,000}$$



VẬN DỤNG



3

Chọn đáp án sai.

Cô Dung có 23 phong kẹo, mỗi phong có 10 viên kẹo. Cô chia đều số kẹo đó cho 10 bạn. Vậy mỗi bạn nhận được:

A. 23 viên kẹo

B. $\frac{23}{10}$ phong kẹo

C. $2\frac{3}{10}$ viên kẹo

D. $2\frac{3}{10}$ phong kẹo

Cô Dung có tất cả số viên kẹo là:

$$10 \times 23 = 230 \text{ (viên kẹo)}$$

Mỗi bạn nhận được số viên kẹo là:

$$230 : 10 = 23 \text{ (viên kẹo)}$$

Mỗi bạn nhận được số phong kẹo là:

$$23 : 10 = \frac{23}{10} = 2\frac{3}{10} \text{ (phong kẹo)}$$



TẠM BIỆT

